

7èmeAF – Maths – Séquences fraction 1 – séance 1

Prénom :


Nom :

Durée : 10 minutes

Date :

Evaluation

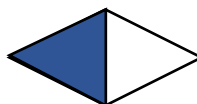
1- Ecris la fraction que représente la partie colorée de chaque figure.




.....



.....




.....

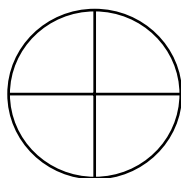


.....

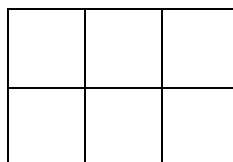
2- Calcule la partie de la figure indiquée par la fraction



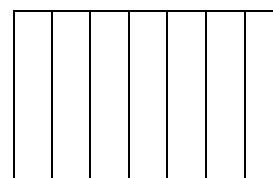
$$\frac{3}{4}$$



$$\frac{1}{4}$$



$$\frac{2}{6}$$



$$\frac{5}{7}$$

3- Complète le tableau : écris en chiffre.

Un demi		Trois cinquièmes	
Trois quarts		Un quart	
Deux tiers		Six dixièmes	
Cinq sixièmes		Sept huitièmes	
Quatre septièmes		Trente-deux cinquantièmes	